

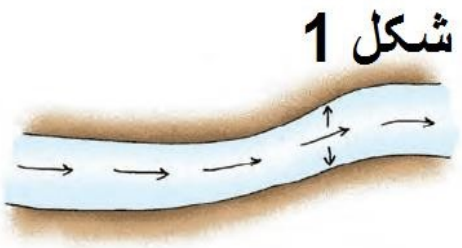
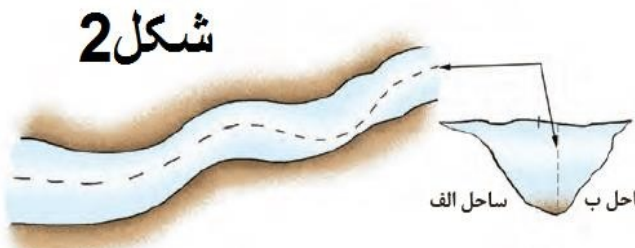
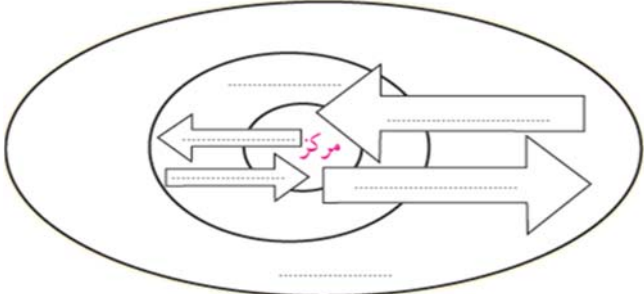
<p>نام درس: جغرافیا (۲) تاریخ آزمون: دبیر مربوطه: عفت دارابی مدت آزمون: ۹۰ دقیقه تعداد صفحه: ۳</p>	<p>بسمه تعالی اداره کل آموزش و پرورش خراسان رضوی اداره آموزش و پرورش ناحیه ۴ دبیرستان دولتی عاصمی نیم سال دوم ۱۴۰۳-۱۴۰۲</p>	<p>«لیس للانسان الا ما سعی» > قرآن کریم نام: نام خانوادگی: شماره دانش آموزی: پایه: یازدهم رشته علوم انسانی</p>
--	---	---

بارم	سؤالات	ردیف
۱	<p>درست یا نادرست بودن جملات زیر را مشخص کنید . (ص) یا (غ)</p> <p>الف) امروزه همه کشورها از نظر مواد خام و کالاهای صنعتی خود کفا و بی نیاز از مبادله با سایر کشورها هستند. ()</p> <p>ب) اصطلاح ژئوپلیتیک معادل سیاست جغرافیایی می باشد که مورد قبول همگان است. ()</p> <p>ج) برای تعیین خط مرزی در امتداد رشته کوه ها خط الراس آنها در نظر گرفته می شود. ()</p> <p>د) انقلاب سبز به معنای به کاربردن روش های علمی، ماشین آلات و کود می باشد. ()</p>	۱
۱	<p>جای خالی را با کلمات مناسب کامل کنید .</p> <p>الف) پایین ترین حد جزر دریا نام دارد .</p> <p>ب) حدود ۹۰ درصد تجارت جهانی (از نظرونی) از طریق حمل و نقل صورت می گیرد .</p> <p>ج) بهترین شکل برای یک کشور شکل است .</p> <p>د) کشورهای توسعه یافته صنعتی که از نظر درآمد و ثروت بالاترین موقعیت را دارند نامیده می شوند.</p>	۲
۱	<p>گزینه صحیح را انتخاب کنید .</p> <p>الف) مرز بین کانادا و آلاسکا چه نوع مرزی است ؟</p> <p>۱- مرز قبل از سکونت ۲- مرز تحمیلی ۳- مرز پیشتاز ۴- موارد ۱ و ۳</p> <p>ب) شاخص توسعه انسانی کدام عوامل را در بر می گیرد ؟</p> <p>۱- متوسط عمر- بهداشت- آموزش- تفریح ۲- درآمد- رفاه- امید به زندگی- سواد</p> <p>۳- سواد- وسایل ارتباطی- درآمد- بهداشت ۴- درصد باسوادی- طول عمر- درصداشتغال</p> <p>ج) کدام گزینه جزء مهم ترین نواحی صنعتی یا قطب های صنعتی جهان <u>نمی</u> باشد ؟</p> <p>۱- آمریکای لاتین ۲- آمریکای شمالی ۳- شرق . جنوب شرق آسیا ۴- هیچکدام</p> <p>د) کدام گزینه از وظایف عمده مدیریت کشور نمی باشد ؟</p> <p>۱- اداره امور سرزمین ۲- روابط خارجی ۳- حفظ فرهنگ و آداب و رسوم ۴- اداره سازه یا ساختار انسانی</p>	۳
۲	<p>چه رابطه ای بین فاصله از کانون یک ناحیه جغرافیایی و حرکت به سمت مرزهای آن وجود دارد ؟</p>	۴
۱	<p>موارد زیر در کدام معیار ناحیه بندی (انسانی-طبیعی) ارتباط دارد ؟</p> <p>الف) ناحیه صنعتی رور در آلمان ب) ناحیه بارشی</p> <p>خزر غربی</p>	۵

<p>نام درس: جغرافیا (۲) تاریخ آزمون: دبیر مربوطه: عفت دارابی مدت آزمون: ۹۰ دقیقه تعداد صفحه: ۳</p>	<p>بسمه تعالی اداره کل آموزش و پرورش خراسان رضوی اداره آموزش و پرورش ناحیه ۴ دبیرستان دولتی عاصمی نیم سال دوم ۱۴۰۳-۱۴۰۲</p>	<p>«لیس للانسان الا ما سعی» > قرآن کریم نام: نام خانوادگی: شماره دانش آموزی: پایه: یازدهم رشته علوم انسانی</p>
--	---	---

۱	با توجه به صنایع نو و فناوری پیشرفته به سوالات پاسخ دهید. الف) امروز کشورها سعی می کنند این صنایع را چگونه گسترش دهند؟ ب) اولین و مهم ترین مکان این صنایع در دره ی سیلیکون ولی به چه نامی معروف است؟	۶
۱	در طبقه بندی آب و هوایی کوپن کدام گروه های آب و هوایی نامناسب برای رویش گیاه می باشند؟	۷
۱	اصطلاحات زیر را تعریف کنید. الف) کشت و صنعت ب) مرز	۸
۰/۷۵	بیابان های گرم در کدام نواحی واقع شده اند؟	۹
۰/۵	چرا همه مناطق آزاد تجاری جهان در رسیدن به اهداف خود موفق نبوده اند؟	۱۰
۱/۵	اصطلاحات زیر را تعریف کنید. الف - اقتصاد جهانی: ب - جغرافیای سیاسی:	۱۱
۲	هر یک از مناطق زیر جزء کدامیک از انواع نواحی سیاسی می باشند؟ الف - استان ب - اتحادیه اروپا ج - کشور مصر د - بندر هنگ کنگ	۱۲
۱	هر یک از موارد زیر مربوط به کدام نوع مرز می باشد؟ الف - با در نظر گرفتن شرایط فرهنگی تعیین می شوند. ب - با استفاده از مختصات جغرافیایی تعیین می شوند. ج - مرز بین کانادا و آلاسکا د - افراد یک قوم یا ملت که دارای دین و زبان مشترک هستند از هم جدا می کند.	۱۳
۰/۷۵	هر یک از کشورهای زیر دارای چه نوع نظام سیاسی (از نظر مدیریت فضای جغرافیایی) می باشند؟ الف - انگلستان) (ب - فرانسه) (ج - استرالیا) (۱۴

<p>نام درس: جغرافیا (۲) تاریخ آزمون: دبیر مربوطه: عفت دارابی مدت آزمون: ۹۰ دقیقه تعداد صفحه: ۳</p>	<p>بسمه تعالی اداره کل آموزش و پرورش خراسان رضوی اداره آموزش و پرورش ناحیه ۴ دبیرستان دولتی عاصمی نیم سال دوم ۱۴۰۳-۱۴۰۲</p>	<p>«لیس للانسان الا ما سعی» > قرآن کریم نام: نام خانوادگی: شماره دانش آموزی: پایه: یازدهم رشته علوم انسانی</p>
--	---	---

<p>۱</p>	<p>به سوالات با توجه به شکل پاسخ دهید. الف - در شکل ۱ و ۲ برای تعیین خط مرزی از چه روش هایی استفاده می شود؟ ب - کدام ناحیه بهترین خط مرزی است؟ چرا؟</p> <p>شکل ۱</p>  <p>شکل ۲</p>  <p>تعیین خط مرزی رود</p>	<p>۱۵</p>
<p>۲</p>	<p>روی مدل مرکز - نیمه پیرامون - پیرامون، جا های خالی را با کلمات مناسب پر کنید.</p> 	<p>۱۶</p>
<p>۱/۵</p>	<p>درباره نظریه های ژئوپلیتیکی به سوالات پاسخ دهید . الف - مکیندر در نظریه خود کدام منطقه را قلعه یا دژ جهان می دانست؟ ب - پدر علم جغرافیای سیاسی کیست و نظریه او چه نام دارد؟ ج - آلفرد ماهان قدرت دریایی را در چه عواملی می دانست؟</p>	<p>۱۷</p>
<p>۲۰</p>	<p>موفق باشید</p>	